














Adı Soyadı : .....

Numarası : .....

### Konu: Paralarımız Etkinliği 1


Aşağıdaki paraları okunuşları örnekteki gibi eşleştirelim.

	<div>1 Kuruş</div>	
	<div>1 Türk Lirası</div>	<div>50 Türk Lirası</div>
	<div>1 00 Türk Lirası</div>	<div>200 Türk Lirası</div>
	<div>10 Türk Lirası</div>	<div>25 Kuruş</div>
	<div>50 Kuruş</div>	<div>5 Türk Lirası</div>
	<div>20 Türk Lirası</div>	<div>10 Kuruş</div>
		
		
		
		

Aşağıdaki çocuklardan en az parası olan çocuğu işaretleyiniz.

     	     	      
--	--	---

Aşağıdaki paraların miktarlarını noktalı yerlere yazalım.



Aşağıda verilen eşyaların değerlerine karşılık gelen paraları örnekteki gibi işaretleyiniz.



6



21



15



30



25



60



12



16







[www.mebders.com](http://www.mebders.com)